

Pruebas de Acceso a Estudios de Grado- P.A.E.G.

Materia: **Geografía**

Este examen consta de dos opciones, opción A y B. El alumno deberá contestar **sólo a una de ellas**. Como criterio general de corrección para el conjunto de la prueba se valorará la presentación, la ortografía y la redacción.

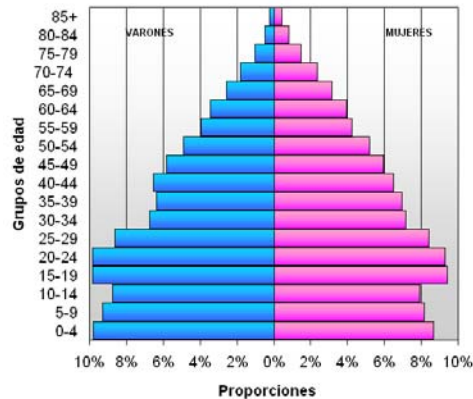
## OPCIÓN A:

### I. PRÁCTICA (Puntuación: 3 puntos)

Observando las pirámides de población española en 1950 y 2007, responda a las siguientes preguntas:

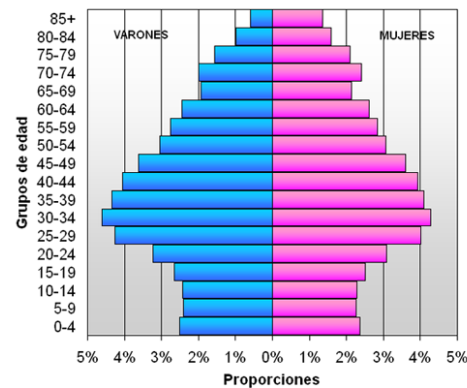
- 1.- Diferencias fundamentales entre ambas pirámides.
- 2.- Causas que explican las principales transformaciones.
- 3.- Posibles consecuencias sociales y económicas.

Pirámide de población de España, año 1950



Fuente: Instituto Nacional de Estadística. Censo de 1950

Pirámide de población de España, año 2007



Fuente: Instituto Nacional de Estadística. Censo a 1 de enero de 2007

### II. TEMA (Puntuación: 3 puntos)

Desarrolle el siguiente tema:

- Naturaleza y medio ambiente español. Problemas medioambientales: riesgos naturales y amenazas del ser humano (contaminación, deforestación, sobreexplotación... Políticas medioambientales de protección, conservación y mejora. La realidad de Castilla-La Mancha.

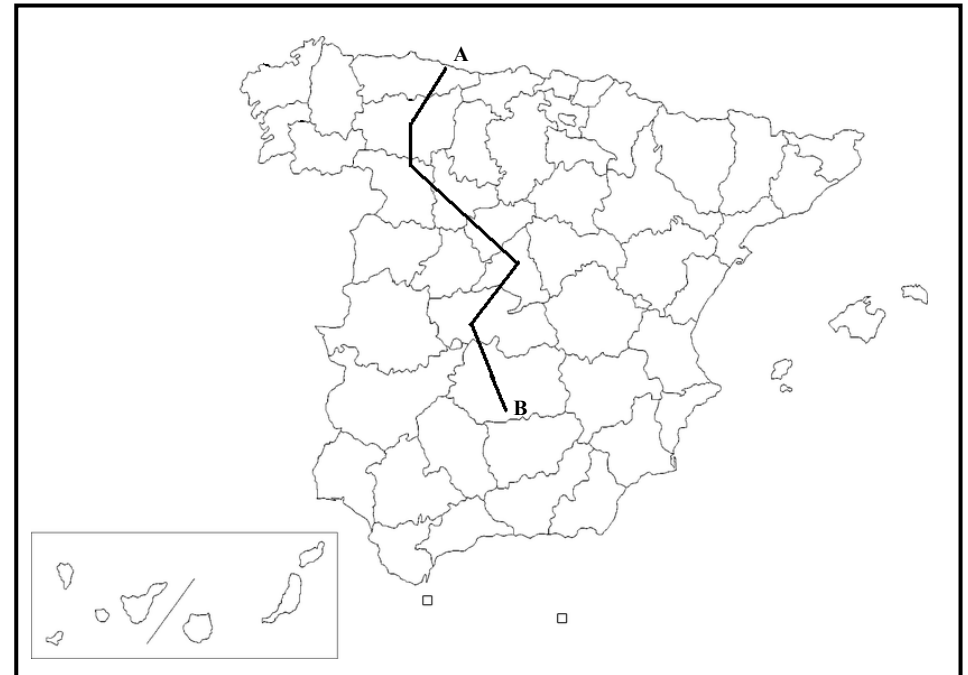
### III. CONCEPTOS (Puntuación: 2 puntos)

Defina con la mayor precisión posible, y de forma breve, estos **cuatro** conceptos e indique, siempre y cuando sea posible, un ejemplo relativo a España o a Castilla-La Mancha:

- Escala; Modelado kárstico; Isotherma; Ciudad dormitorio.

### IV. LOCALIZACIÓN (Puntuación: 2 puntos)

Cite las unidades del relieve, ríos y provincias que atraviesa la línea desde "A" hasta "B".



Pruebas de Acceso a Estudios de Grado- P.A.E.G.

Materia: **Geografía**

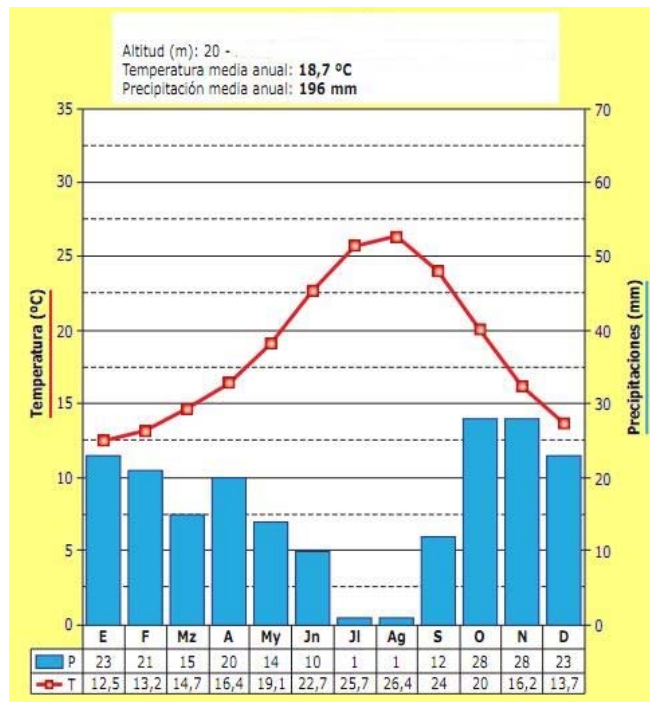
Este examen consta de dos opciones, opción A y B. El alumno deberá contestar **sólo a una de ellas**. Como criterio general de corrección para el conjunto de la prueba se valorará la presentación, la ortografía y la redacción

## OPCIÓN B:

### I. PRÁCTICA (Puntuación: 3 puntos)

Comente el siguiente climograma contestando a las siguientes cuestiones:

- 1.- Evolución de las temperaturas y de las precipitaciones a lo largo del año.
- 2.- Tipo de clima al que pertenece. ¿A qué ciudad o zona cree que corresponde?
- 3.- Mencione qué situaciones de la dinámica general de la atmósfera pueden afectar a esta zona.



### II. TEMA (Puntuación: 3 puntos)

Desarrolle el siguiente tema:

-Los espacios turísticos. Importancia del turismo. Características: la oferta turística, tipos de turismo, áreas turísticas y la demanda turística. Problemas del turismo. Nuevos tipo de turismo.

-----

### III. CONCEPTOS (Puntuación: 2 puntos)

Defina con la mayor precisión posible, y de forma breve, estos **cuatro** conceptos e indique, siempre y cuando sea posible, un ejemplo relativo a España o a Castilla-La Mancha:

Movimiento antiglobalización; Falla; Emigración; Comunidad Autónoma.

-----

### IV. LOCALIZACIÓN (Puntuación: 2 puntos)

Cite las unidades del relieve, ríos y provincias que atraviesa la línea desde "A" hasta "B".

